
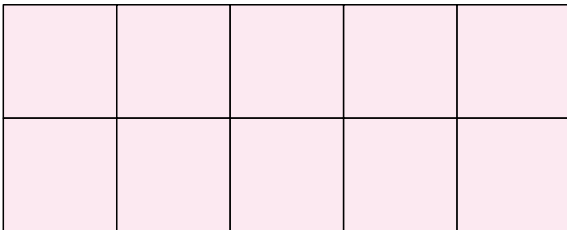




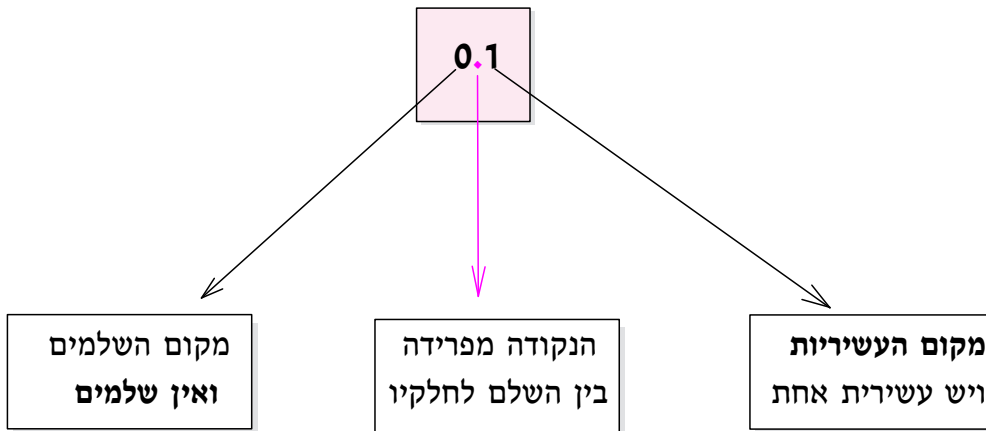
# פרק 1 - השלם וחלקיו

## I. השלם והעשיריות - ב"מלבנים"

המלבן הזה מייצג שלם.



1. לכמה חלקים שווים חילקנו את המלבן? \_\_\_\_\_ חלקים.  
 כל חלק מכונה עשירית, כי חילקנו את השלם ל-10 חלקים שווים.  
 בספרות כותבים כך: 0.1.




מהו תפקיד הנקודה?

- כמה עשירות בשלם אחד? \_\_\_\_\_
- מצאו באמצעי ההמחשה (בסוף החוברת) את המלבן השלם שמחולק לעשירות ופרקו אותו.

דוגמה: כמה עשירות צבועות במלבן? במילים: **ארבע עשירות**, בספרות: **0.4**


- כמה עשירות צבועות במלבן? במילים: \_\_\_\_\_ עשירות, בספרות: \_\_\_\_\_

- האם לדעתכם בשני המלבנים שלמעלה צבועה אותה הכמות? \_\_\_\_\_
- אם תשובתכם היא "לא", קחו ארבע עשירות מפורקות מהעזרים והניחו במלבן כרצונכם.


- הזיזו עשירית אחת שפירקתם למקום אחר (שונה מהציורים שבדף).

האם השתנה מספר העשירות? \_\_\_\_\_