


כּפּוּר שֶׁל פּרָדְסָנִים

נושא בדרכים שונות

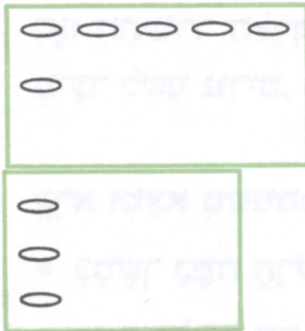
1. מר גלעדי נטע פרדס. בפרדס היו 4 שורות ובכל שורה 5 שתילים. המשך לציר את הפרדס. כמה שתילים שתל מר גלעדי בחלקתו?



2. לשלומי היו שתי חלקות פרדס.


בחלקה הגדולה היו 3 שורות ובכל שורה 5 עצים. בחלקה הקטנה היו 3 שורות ובכל שורה 4 עצים.

ציר את העצים. כמה עצים בפרדסו של שלומי?



3. גם למר גבריאל היו 2 חלקות. באחת היו 2 שורות של 7 עצים, ובשניה - 3 שורות של 6 עצים.

כמה עצים היו בפרדסו של מר גבריאל?



4. רנה קבלה שתילים והיא שתלה אותם.

בשורה הראשונה שתלה שורה שתיל אחד.

בשורה השנייה - 3 שתילים. (צירי!)

בשורה השלישית - 5 שתילים. (צירי!)

ובשורה הרביעית - 7 שתילים. (צירי!)

כמה שתילים שתלה רנה?

